

**LATIHAN TKD
(TEST KEMAMPUAN DASAR) KELAS 3 SD**

BAHASA INDONESIA

MEMBACA

Perhatikan bacaan berikut :

Di halaman SD Kencana, murid-murid kelas 1 sampai kelas 6 sudah berkumpul untuk mengikuti upacara bendera hari Senin. Mereka mengenakan pakaian seragam sekolah berwarna putih, topi berwarna merah dan sepatu hitam. Mereka berbaris dengan rapi, bersiap mengikuti upacara bendera dengan tertib.

Jawablah pertanyaan-pertanyaan berikut :

1. Dimanakah murid-murid berkumpul ?
2. Apa saja yang mereka kenakan ?

Perhatikan tabel prestasi Sita dari TK hingga kelas 3 SD

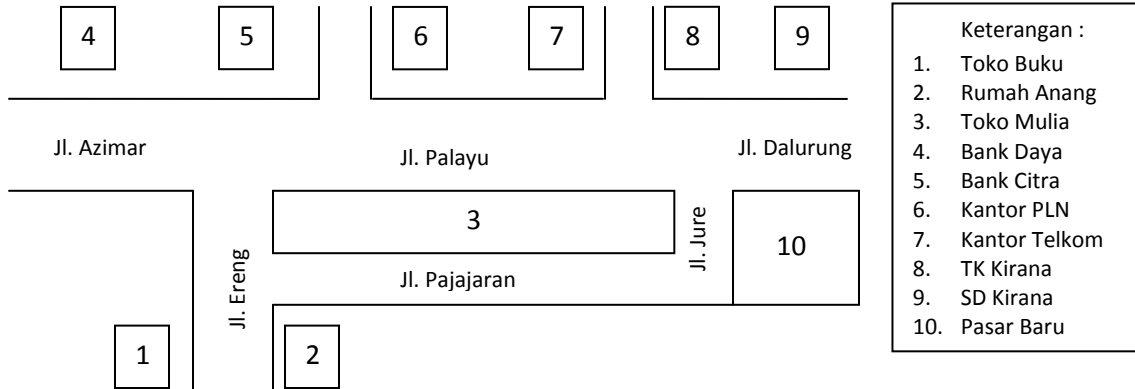
Tahun 2000	Juara I	Lomba mewarnai gambar tingkat Taman Kanak-kanak
Tahun 2001	Juara II	Lomba menyanyi tingkat kelas 1 SD
Tahun 2002	Juara I	Lomba membaca puisi tingkat kelas 2 SD
Tahun 2003	Juara III	Lomba mengarang tingkat kelas 3 SD

3. Berdasarkan tabel tersebut, Eka mendapat juara III pada lomba tahun
4. Sebagian besar penduduk Indonesia memiliki mata pencaharian sebagai petani.
Mata pencaharian artinya
5. Nelayan menebarkan pukat sesampainya di tengah laut.
Persamaan kata pukat adalah
6. Almarhum kakeknya dimakamkan di taman makam pahlawan.
Persamaan kata dimakamkan adalah
7. Ibu memetik bunga mawar yang sedang mekar.
Lawan kata mekar adalah

8. Olah raga bermanfaat untuk merenggangkan otot.

Lawan kata merenggangkan adalah

9.



Jala manakah yang akan dilalui Anang jika ia pergi ke SD Kirana ?

10. Perhatikan petunjuk berikut !

Dosis pemakaian :

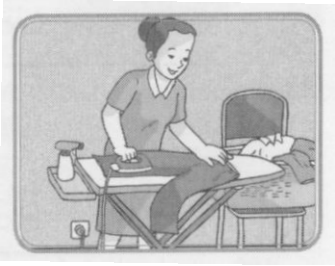
Dewasa 2 – 3 X sehari 1 tablet

Anak-anak dibawah 10 tahun 2 – 3 X sehari ½ tablet

Jika usiamu 9 tahun maka dosis obat yang diminum adalah

MENULIS

11. Buatlah cerita dari gambar di atas !



12. Buatlah cerita dari gambar di bawah ini !



13. Buatlah kalimat dengan menggunakan kata memelihara !

14. Buatlah kalimat dengan menggunakan kata mencangkok!

15. Susunlah kata-kata berikut menjadi sebuah kalimat yang benar !
aliran – mengakibatkan – bumi – listrik – terputusnya – gempa

16. Susunlah kata-kata berikut menjadi sebuah kalimat yang benar !
wayang – suntuk – pertunjukan – kulit – berlangsung – semalam

17. Susunlah kalima t berikut menjadi sebuah kalimat berita !

- (1) Sampai di sawah ia segera mencabuti rumput yang tidak bermanfaat.
- (2) Setelah matahari terbit, ia pun segera berangkat ke sawah.
- (3) Pak Sodri petani yang rajin.
- (4) Setiap pukul 05.00 ia sudah bangun tidur.

18. Karena di rumah kakek dan nenek banyak tumbuh pohon buah-buahan.
Setiap liburan aku selalu pergi ke sana.
Kakek dan nenek tinggal di Desa Suka Damai.
Aku dan adikku sangat senang tinggal di rumah kakek dan nenek.

Susunlah kalimat di atas agar menjadi paragraf yang tepat !

19. Tulislah kalimat di bawah ini dengan ejaan dan tanda baca yang tepat.
roni berlari mengejar bola dan menendang ke gawang

20. Tulislah kalimat di bawah ini dengan huruf tegak bersambung !
Anita akan pindah ke Solo pada bulan Juni.

MATEMATIKA

1. Bilangan 9.214 bila ditulis dengan huruf adalah
2. Tiga ribu enam ratus delapan ditulis dengan angka adalah
3. 4.815 nilai tempat untuk angka 8 adalah
4. Nilai angka 5 pada bilangan 5.713 adalah
5. 6.183 nilai puluhan ditempati oleh angka
6. Urutkan bilangan dari yang terkecil !
2.543, 2.435, 2.345, 2.354, 2.453
7. $2.845 + 7.904 = \dots\dots\dots$
8. $6.251 + 3.796 = \dots\dots\dots$
9. Di perpustakaan terdapat 3.415 buku cerita dan 1.209 buku pelajaran. Jumlah buku yang ada di perpustakaan adalah
10. Ibu membeli beras seharga Rp. 7.900,00 kemudian membeli tepung terigu seharga Rp. 4.800,00. Jika ibu membayar dengan satu lembar uang sepuluh ribuan dan 1 lembar uang lima ribuan, berapakah uang kembalian yang diterima ibu ?
11. $8.419 - 3.868 = \dots\dots\dots$
12. $n + 2.005 = 7.527$
13. Sampai hari ini tabungan Aziz berjumlah Rp. 12.500,00. Agar minggu depan tabungan Aziz menjadi Rp. 20.000,00 berapa rupiah lagi yang harus ditabung Aziz ?
14. Uang Tika Rp. 2.500,00. Jumlah uang Tika dan uang Tiwi adalah Rp. 6.000,00. Berapa Jumlah uang Tiwi ?
15. $5.154 + 1.376 - 2.185 = \dots\dots\dots$

16. $2.435 + 15 \times 20 = \dots\dots\dots$

17. $5 \times 18 : 6 = \dots\dots\dots$

18. $8 \times 12 + 144 : 6 = \dots\dots\dots$

19. Dina mempunyai 6 bungkus permen coklat. Jika tiap bungkus berisi 15 permen coklat, berapa banyak permen coklat Dina seluruhnya ?

20. Seminggu 7 hari. Berapa minggukah 679 hari ?

21. Perhatikan gambar !

Bagian yang diarsir menunjukkan pecahan $\dots\dots\dots$



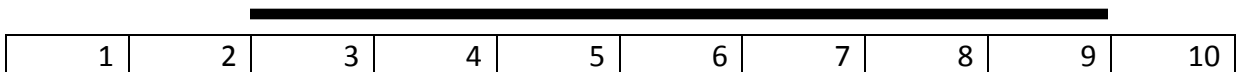
22. Panjang pita Ani $\frac{1}{4}$ meter. Panjang pita Adi $\frac{2}{4}$ meter. Jika panjang kedua anak disambungkan panjangnya $\dots\dots\dots$ meter

23. Di meja ada 1 batang lilin menyala. Setelah 15 menit lilin terbakar $\frac{2}{3}$ bagian. Berapa bagian lilin yang tersisa ?

24. Jika Ani pulang belajar pukul 07.00. Ani selesai belajar pukul 10.30. Maka Ani belajar selama $\dots\dots\dots$ jam $\dots\dots\dots$ Menit

25. Fitri lahir bulan Juni dan Mira lahir lima bulan kemudian. Mira lahir bulan $\dots\dots\dots$

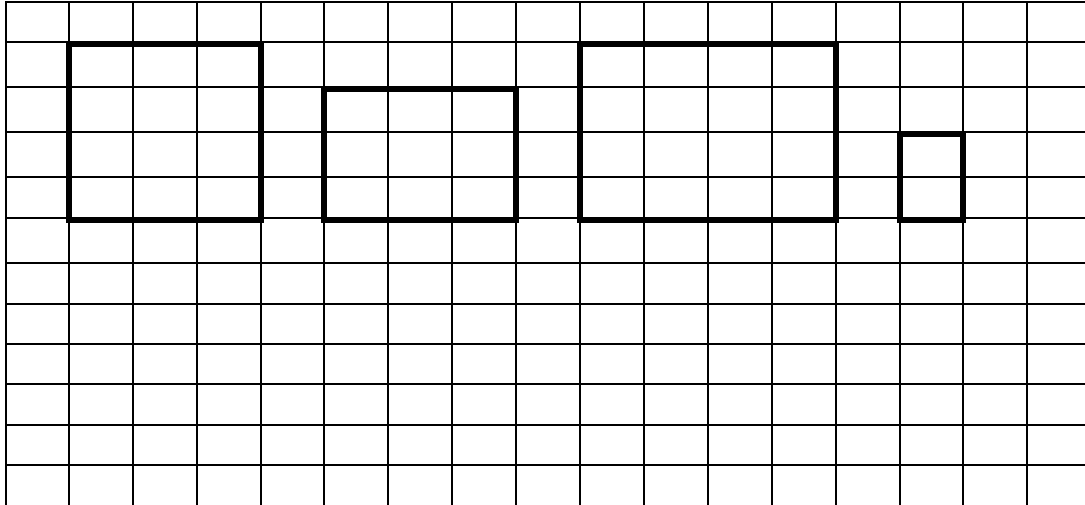
26. Perhatikan gambar !



Panjang tongkat di atas adalah $\dots\dots\dots$ cm

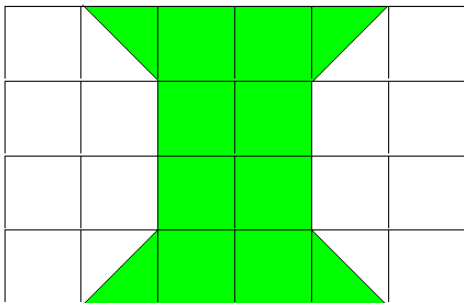
27. Ibu membeli 75 kg beras, 5.000 gram tepung terigu dan 40 ons gula. Berat belanjaan ibu adalah ons.

28. Perhatikan gambar di bawah ini



Gambarlah bangun di atas mulai dari yang terkecil hingga terbesar !

29. Luas bangun pada daerah yang diarsir adalah



30. Tulislah nama bangun di bawah ini !

